

Министерство образования и науки Республики Татарстан

РЕСПУБЛИКАНСКАЯ ОЛИМПИАДА ШКОЛЬНИКОВ

ПО ОСНОВАМ БЕЗОПАСНОСТИ ЖИЗНЕДЕЯТЕЛЬНОСТИ

(МУНИЦИПАЛЬНЫЙ ЭТАП)

«\_\_\_\_\_» \_\_\_\_\_ 2023 г.  
Республика Татарстан

ТЕОРЕТИЧЕСКИЙ ТУР

3 - 4 класс

Впишите свой код/шифр

Впишите свой код/шифр		

Оценка за Теоретический блок \_\_\_\_\_ баллов (максимальная 80 балла)

Оценка за Блок тестирования \_\_\_\_\_ баллов (максимальная 20 баллов)

**Уважаемый участник Олимпиады!**

При выполнении заданий теоретического тура Вам предстоит выполнить определенную работу, которую лучше организовать следующим образом:

- не спеша, внимательно прочитайте задание и входящие в него вопросы или ситуации;
- определите, наиболее верный и полный ответ;
- если вы отвечаете на теоретический вопрос, обдумайте и сформулируйте конкретный ответ только на поставленный вопрос;
- если вы отвечаете на предложенную ситуацию, обдумайте порядок и последовательность действий по предложенной ситуации и впишите ответы в схему в той последовательности, которую вы определили, при этом ответ должен быть кратким, но содержать необходимую информацию;
- если вы отвечаете на задание, связанное с заполнением таблицы, не старайтесь детализировать информацию, вписывайте только те сведения или данные, которые указаны в вопросе или верхних графах;
- после выполнения всех предложенных заданий еще раз удостоверьтесь в правильности выбранных вами ответов и решений;


**Задание теоретического тура по данной предметной секции считается выполненным, если Вы вовремя сдаете его членам жюри. Время выполнения задания составляет 180 минут.**

**Желаем вам успеха!**

**ЗАДАНИЯ ТЕОРЕТИЧЕСКОГО ТУРА**

Вариант ответа:

**Задание 1.** По назначению обслуживаемой сфере весь транспорт делится на три категории: транспорт общего пользования, обслуживающий сферу обращения и населения, транспорт специального пользования (внутрипроизводственное перемещение сырья, полуфабрикатов, готовых изделий и др.), а также транспорт индивидуального пользования. Выполните задание, указав на картинках, что относится к индивидуальному транспорту.



**Оценочные баллы:** максимально – 12 баллов;

Фактически набранные баллы за задание - \_\_\_\_\_ .

Подписи \_\_\_\_\_

членов \_\_\_\_\_

жюри \_\_\_\_\_

**Задание 2. Впишите в правых окошках названия изображенных знаков дорожного движения.**

*Вариант ответа:*

**Оценочные баллы: максимально – 12 баллов;**

*Фактически набранные баллы за задание - \_\_\_\_\_ . Подписи членов жюри \_\_\_\_\_*



**Задание 3. Электрический ток при прохождении через человеческое тело вызывает, его нагрев и может привести к ожогу. При электрических ожогах могут быть серьезно повреждены внутренние ткани тела человека - Кроме того, поражение электрическим током может привести к остановке сердца или к остановке дыхания.**

**Выполните задание, указав ряд общих правил безопасного обращения с электричеством:**

*Вариант ответа:*

---



---



---



---



---



---



---



---

**Оценочные баллы: максимально – 12 баллов;**

*Фактически набранные баллы за задание - \_\_\_\_\_ .*

*Подписи*

*жюри* \_\_\_\_\_

*членов*

**Задание 4. Выполните задание, заполнив инструкция по пожарной безопасности для учащихся.**

*Вариант ответа:*

**А. Укажите общие требования безопасности:**

---



---



---



---



---



---



---



---


**Оценочные баллы: максимально – 10 баллов;**

*Фактически набранные баллы за задание - \_\_\_\_\_ .*

*Подписи*

*жюри* \_\_\_\_\_

*членов*



**Задание 5. Какие основные меры личной безопасности, необходимо соблюдать учащимся при передвижении на общественном наземном транспорте (автобусы, троллейбусы, трамваи).**

*Вариант ответа:*

---

---

---

---

---

---

---

---

---

---

**Оценочные баллы: максимально – 12 баллов;**

Фактически набранные баллы за задание - \_\_\_\_\_ .

Подписи членов

жюри \_\_\_\_\_

**Задание 6. Укажите основные этапы оказания помощи при носовом кровотечении:**

*Вариант ответа:*

---

---

---

---

---

---

---

---

---

---

**Оценочные баллы: максимально – 10 баллов;**

Фактически набранные баллы за задание - \_\_\_\_\_ .

Подписи членов

жюри \_\_\_\_\_



**Задание 7. Укажите основные правила ориентирования по местным признакам:**

*Вариант ответа:*

---



---



---



---



---



---



---



---



---



---

**Баллы за задания Теоретического блока**

№ задания	1	2	3	4	5	6	7
Кол-во баллов							

Подписи председателя  
жюри \_\_\_\_\_

Подписи членов  
жюри \_\_\_\_\_



**Оценочные баллы: максимально – 10 баллов;**

Фактически набранные баллы за задание - \_\_\_\_\_ .

Подписи членов  
жюри \_\_\_\_\_

## ЗАДАНИЯ ТЕОРЕТИЧЕСКОГО ТУРА (Блок тестирования)

№ п/п	Тестовые задания	Макс. балл	Кол-во набранных баллов
1	2	3	4
<b>Определите один правильный ответ</b>			
1.	<b>Какой подарок сделали родители дяди Федора почтальону Печкину?</b> а) велосипед б) самокат в) мотоцикл, машину	1	
2.	<b>В каком городе находится музей истории ГАИ-ГИБДД Республики Татарстан?</b> а) Альметьевск	1	

	б) Зеленодольск в) Казань г) Набережные Челны		
3.	<b>Что означает три непрерывных звонка в школе?</b> а) сбор учителей на совещание б) внимание в) на урок г) экстренная эвакуация	1	
4.	<b>Какие основные показатели определяют состояние погоды?</b> а) высота уровня моря, скорость таяния снегов, направление антициклона, извержение вулканов. б) дождь, ураган, цунами, температура океана, таяние снегов. в) высота ртутного столба, атмосферное давление, скорость выпадения осадков. г) температура, атмосферное давление, влажность, скорость и направление ветра, облачность и осадки.	1	



Определите все правильные ответы			
5.	<p><b>Движение организованных пешеходных колонн по проезжей части разрешается только:</b></p> <p>а) по направлению движения встречных транспортных средств по правой стороне не более чем по четыре человека в ряд;</p> <p>б) по направлению движения транспортных средств по правой стороне не более чем по четыре человека в ряд;</p> <p>в) пешеходы должны переходить дорогу по пешеходным переходам, подземным или надземным пешеходным переходам, а при их отсутствии - на перекрестках по линии тротуаров или обочин;</p> <p>г) Спереди и сзади колонны с левой стороны должны находиться сопровождающие с красными флажками, а в темное время суток и в условиях недостаточной видимости — с включенными фонарями.</p>	2	
6.	<p><b>В местах, где движение, какими сигналами должны руководствоваться пешеходы?</b></p>	3	
	<p>а) сигналами транспортного светофора</p> <p>б) сигналами пожарной машины</p> <p>в) сигналами регулировщика</p> <p>г) сигналами пешеходного светофора</p>		
7.	<p><b>В целях пожарной безопасности, что запрещается приносить в школу?</b></p> <p>а) бумагу.</p> <p>б) пиротехнические средства.</p> <p>в) дрова.</p> <p>г) легковоспламеняющиеся, взрывоопасные, горючие материалы.</p> <p>д) пластиковые бутылки.</p> <p>е) спички, зажигалку.</p>	3	
8.	<p><b>Что НЕЛЬЗЯ делать при пожаре в доме (квартире):</b></p> <p>а) пытаться выйти через задымленный коридор или лестницу.</p> <p>б) прятаться на шкафу.</p> <p>в) опускаться по водосточным трубам и</p>	3	



	стоякам с помощью простыней и веревок. г) закрываться дома. д) прыгать из окна. е) пытаться тушить огонь стоя спиной к окну.	
9.	<b>При какой толщине льда разрешается выходить на лед?</b> —) не менее 10 сантиметров в пресной воде —) не менее 20 сантиметров льда белого цвета —) не менее 7 сантиметров льда белый с оттенком голубого —) 15 сантиметров в соленой воде.	2
10	<b>Что делать если укусила оса или пчела?</b> а) следить за состоянием (отёк, затруднённое дыхание) б) выдавить жало в) удалить жало, приложите холодный	3

компресс г) помазать соленным раствором область укуса д) при возникновении первых симптомов вызвать 03	
<b>Количество баллов</b>	<b>max 20</b>

**Оценочные баллы:** максимально – **20 баллов;**

фактически набранные баллы за Блок тестирования - \_\_\_\_\_ .

Подпись председателя  
жюри \_\_\_\_\_

Подписи членов жюри  
\_\_\_\_\_

## ОЛИМПИАДА ШКОЛЬНИКОВ

## ПО ОСНОВАМ БЕЗОПАСНОСТИ ЖИЗНЕДЕЯТЕЛЬНОСТИ

## (МУНИЦИПАЛЬНЫЙ ЭТАП)

« \_\_\_\_\_ » \_\_\_\_\_ 2023 г.

## ТЕОРЕТИЧЕСКИЙ ТУР

5 - 6 класс

Впишите свой код/шифр

Впишите свой код/шифр		

Оценка за Теоретический блок \_\_\_\_\_ баллов (максимальная 80 баллов)

Оценка за Блок тестирования \_\_\_\_\_ баллов (максимальная 20 баллов)

**Уважаемый участник Олимпиады!**

При выполнении заданий теоретического тура Вам предстоит выполнить определенную работу, которую лучше организовать следующим образом:

- не спеша, внимательно прочитайте задание и входящие в него вопросы или ситуации;
- определите, наиболее верный и полный ответ;
- если вы отвечаете на теоретический вопрос, обдумайте и сформулируйте конкретный ответ только на поставленный вопрос;
- если вы отвечаете на предложенную ситуацию, обдумайте порядок и последовательность действий по предложенной ситуации и впишите ответы в схему в той последовательности, которую вы определили, при этом ответ должен быть кратким, но содержать необходимую информацию;
- если вы отвечаете на задание, связанное с заполнением таблицы, не старайтесь детализировать информацию, вписывайте только те сведения или данные, которые указаны в вопросе или верхних графах;
- после выполнения всех предложенных заданий еще раз удостоверьтесь в правильности выбранных вами ответов и решений;

**Задание теоретического тура по данной предметной секции считается выполненным, если Вы вовремя сдаете его членам жюри. Время выполнения задания составляет 180 минут.**

**Желаем вам успеха!**

## ЗАДАНИЯ ТЕОРЕТИЧЕСКОГО ТУРА

**Задание 2. Согласно основным требованиям по соблюдению безопасности на дороге, пешеходы должны:**

Вариант ответа:

---



---



---



---



---



---



---




---



---



---



**Задание 1. Впишите в правых окошках названия изображенных знаков дорожного движения.**

Вариант ответа:

**Оценочные баллы: максимально – 12 баллов;**

фактически набранные баллы за задание - \_\_\_\_\_.

Подписи членов  
жюри \_\_\_\_\_

**Оценочные баллы: максимально – 14 баллов;**

фактически набранные баллы за задание - \_\_\_\_\_.

Подписи членов  
жюри \_\_\_\_\_



Б. Укажите действия учащихся в случае возникновения пожара:

---



---



---



---



---



---



---



---



---



---

**Оценочные баллы:** максимально – 12 баллов;

Фактически набранные баллы за задание - \_\_\_\_\_ .

Подписи \_\_\_\_\_

членов

жюри \_\_\_\_\_

**Задание 5. Из представленных вариантов действий туриста в походе, необходимо собрать правильную последовательность действий, если потерялись в лесу.**

*Вариант ответа:*

1. Даже если связь отсутствует, попробуйте набрать 112, вызов может пройти
2. Если связи нет, спасатели рекомендуют в любом случае оставаться на месте. Это при условии, что кто-либо из ваших товарищей поймёт, что вас нет и обратится за помощью. Так больше шансов, что вас найдут.
3. Помните: телефон может ловить на возвышенностях.
4. Если пришлось выбираться самому, ищите реки, просеки, тропы. Так выше процент вероятности, что выйдете на людей.
5. Если есть связь, определите свои координаты, сообщите близким и вызывайте МЧС.
6. Самое главное — не паниковать.

Ответ: \_\_\_\_\_

**Оценочные баллы:** максимально – 12 баллов;

фактически набранные баллы за задание - \_\_\_\_\_ .

Подписи членов \_\_\_\_\_

жюри \_\_\_\_\_

**Задание 6. Здоровье — одна из самых главных и важнейших составляющих счастья, это драгоценность, дарованная человеку, которую он обязан беречь с детских лет, ведь здоровый человек формирует здоровую нацию, а с ней — здоровую планету.**

**А. Выполните задание, указав основные составляющие здоровья — здоровый образ жизни.**

*Вариант ответа:*

---

---

---

---

---

---

---

---

---

---

**Б. Перечислите, что относится к личной гигиене человека.**

*Вариант ответа:*

---

---

---

---

---

---

**Оценочные баллы: максимально— 10 баллов;**

*фактически набранные баллы за задание - \_\_\_\_\_ .*

*Подписи членов*

*жюри* \_\_\_\_\_

**Задание 7. Перечислите этапы оказания помощи при носовом кровотечении:**

*Вариант ответа:*

---

---

---

---





**Оценочные баллы: максимально – 10 баллов;**

фактически набранные баллы за задание - \_\_\_\_\_ .

Подписи

членов

жюри \_\_\_\_\_

**Баллы за задания Теоретического блока**

№ задания	1	2	3	4	5	6	7
Кол-во							
баллов							

Подпись председателя

жюри \_\_\_\_\_

Подписи членов

жюри \_\_\_\_\_

## ЗАДАНИЯ ТЕОРЕТИЧЕСКОГО ТУРА (Блок тестирования)

№ п / п	Тестовые задания	Макс. балл	Кол-во набран ных баллов
1	2	3	4
<b>Определите один правильный ответ</b>			
1	Туристическая группа организовала переправу реки вброд стенкой. Куда поставить самого низкорослого участника? а) Вверх по течению б) Вниз по течению в) В середину стенки	1	

2	В лесу, на пересечении просек устанавливают квартальные столбы, верхняя часть которых обтесывается в виде граней. На каждой грани подписывается номер противоположащего ей квартала. Ребро между двумя наименьшими цифрами указывает направление на .....	1	
	а) север б) юг в) восток г) запад		
3	Что включает в себя автономное существование? а) Пребывание человека на значительном удалении от жилья б) Потеря ориентировки на местности в) Отставание от группы в походе г) Всё перечисленное	1	






4	<p><b>Какой сигнал является СПЕЦИАЛЬНЫМ для оповещения населения о самых опасных и чрезвычайных ситуациях</b></p> <p>а) «Тревога!»</p> <p>б) «Внимание всем!»</p> <p>в) «Будьте внимательны!»</p> <p>г) «Всегда готов!»</p>	1			<p>средства индивидуальной защиты;</p> <p>в) документы, продукты питания, спальные и туалетные принадлежности, средства индивидуальной защиты.</p>		
5	<p><b>Перед началом пурги температура воздуха:</b></p> <p>а) понижается;</p> <p>б) не меняется;</p> <p>в) повышается</p>	1			<p>7 <b>Существуют физические симптомы патологического пристрастия к компьютерным играм. Какой признак в этом списке ошибочный?</b></p> <p>а) Постоянная усталость и сонливость</p> <p>б) Ухудшение зрения</p> <p>в) Боли в мышцах, позвоночнике и запястьях</p> <p>г) Гастрит</p> <p>д) Отсутствие головных болей</p>	1	
6	<p><b>При объявлении эвакуации необходимо взять с собой:</b></p> <p>а) личные вещи, документы, продукты питания, туалетные принадлежности, необходимый ремонтный инструмент;</p> <p>б) личные вещи, документы, продукты питания, туалетные и хозяйственные принадлежности,</p>	1			<p>8 <b>Из предложенных вариантов выберите основные причины возникновения опасных ситуаций в квартире (доме):</b></p> <p>а) отсутствие аварийного освещения;</p> <p>б) отключение электроэнергии, криминогенные ситуации;</p>	1	



	в) отсутствие сигнализации;		
9	<p><b>Если незнакомый человек просит Вас передать сумку кому-либо, то следует:</b></p> <p>а) отказать и заняться своими делами;</p> <p>б) запомнить его приметы и сообщить в полицию;</p> <p>в) помочь человеку;</p> <p>г) взять сумку, предварительно проверив ее содержимое</p>	1	

1 0	<p><b>Непрерывная работа школьника за компьютером не должна превышать</b></p> <p>а) 5 минут</p> <p>б) 20 -25 минут</p> <p>в) 40 минут</p> <p>г) 1 час</p>	1	
<b>Определите все правильные ответы</b>			
1 1	<p><b>Загорая на пляже, ты заметил тонущего в озере товарища. На берегу у отдыхающих имеются:</b></p> <p>а) рюкзак с продуктами;</p> <p>б) надувной матрас;</p> <p>в) пустая канистра;</p> <p>г) сигнальная ракета;</p> <p>д) рыбацкие сети.</p>	2	



<p>1 <b>Все перечисленные ниже правила, кроме двух, используются для правильного питьевого режима при автономном пребывании в условиях природной среды. Определите два неверных правила:</b></p> <p>2</p> <p>а) Снизить физические нагрузки</p> <p>б) Увеличить темп ходьбы</p> <p>в) Не разговаривать на маршруте (меньше разговаривать)</p> <p>г) Утром перед началом движения выпить подсоленной воды</p> <p>д) Во время движения на маршруте только полоскать рот, делать 2-3 маленьких глотка</p> <p>е) Увеличить частоту остановок для отдыха</p> <p>ж) Пить воду до приема пищи.</p>	2		<p>1 <b>Что из перечисленного относится к пищевым веществам?</b></p> <p>3</p> <p>а) хлеб</p> <p>б) масло</p> <p>в) витамины</p> <p>г) рыба</p> <p>д) углеводы</p>	2	
			<p>1 <b>Во время прогулки вдоль озера зимой при температуре воздуха -3 С° приятель провалился одной ногой под лед. Через 40 минут вы дошли до дома. Пострадавший жалуется на дрожь и отсутствие чувствительности пальцев стоп. Выберите правильные действия при оказании помощи пострадавшему и перечислите их.</b></p> <p>4</p> <p>а) Предложить принять ванну с горячей водой</p> <p>б) Снять обувь, растереть стопы шерстяной тканью и опустить их в горячую воду</p> <p>в) Снять с ноги мокрый ботинок, обернуть стопу теплым одеялом</p>	2	



## Экземпляр № 3

	г) Снять обувь, растереть стопы спиртом и приложить теплые грелки д) Предложить выпить горячий чай		
1 5	<b>Определите ошибочные признаки. Характерным признаком дефицита витаминов, особенно весной является.....</b>  а) возникающие сами по себе синяки и кровоточивость десен во время чистки зубов;  б) снижение внимания и работоспособности;  в) улучшение аппетита;  г) нарушение сна;  д) трещинки в уголках губ;  е) сухость, бледность кожи;  ж) обостренная реакция на различные раздражители;  з) тусклость и выпадение волос;  и) отсутствие простудных заболеваний;  к) обострения хронических болезней, например, герпеса на губах.	2	
	<b>Количество баллов</b>	<b>max 20</b>	

**Оценочные баллы:** максимально – **20 баллов;**

фактически набранные баллы за Блок тестирования - \_\_\_\_\_ .

Подпись председателя  
жюри \_\_\_\_\_Подписи членов жюри  
\_\_\_\_\_

**Министерство образования и науки Республики Татарстан**  
**РЕСПУБЛИКАНСКАЯ ОЛИМПИАДА ШКОЛЬНИКОВ**  
**ПО ОСНОВАМ БЕЗОПАСНОСТИ ЖИЗНЕДЕЯТЕЛЬНОСТИ**  
**(МУНИЦИПАЛЬНЫЙ ЭТАП)**

« \_\_\_\_\_ » \_\_\_\_\_ 2023 г.

Республика Татарстан

**ТЕОРЕТИЧЕСКИЙ ТУР**  
**7 - 8 класс**

Впишите свой код/шифр		

***Уважаемый участник Олимпиады!***

*При выполнении заданий теоретического тура Вам предстоит выполнить определенную работу, которую лучше организовать следующим образом:*

*– не спеша, внимательно прочитайте задание и входящие в него вопросы или ситуации;*

*– определите, наиболее верный и полный ответ;*

*– если вы отвечаете на теоретический вопрос, обдумайте и сформулируйте конкретный ответ только на поставленный вопрос;*

*– если вы отвечаете на предложенную ситуацию, обдумайте порядок и последовательность действий по предложенной ситуации и впишите ответы в схему в той последовательности, которую вы определили, при этом ответ должен быть кратким, но содержать необходимую информацию;*

*– если вы отвечаете на задание, связанное с заполнением таблицы, не старайтесь детализировать информацию, вписывайте только те сведения или данные, которые указаны в вопросе или верхних графах;*

*– после выполнения всех предложенных заданий еще раз удостоверьтесь в правильности выбранных вами ответов и решений;*

***Задание теоретического тура по данной предметной секции считается выполненным, если Вы вовремя сдаете его членам жюри. Время выполнения задания составляет 180 минут.***

***Желаем вам успеха!***

Оценка за Теоретический блок \_\_\_\_\_ баллов (максимальная 80 балла)

Оценка за Блок тестирования \_\_\_\_\_ баллов (максимальная 20 баллов)

**Оценка результата участника за ТЕОРЕТИЧЕСКИЙ ТУР \_\_\_\_\_ баллов**

***(максимально за теоретический тур 100 баллов)***



---

---

---

---

---

**Б. В темное время суток и в условиях недостаточной видимости независимо от освещения дороги, а также в тоннелях на движущемся транспортном средстве должны быть включены следующие световые приборы:**

*Вариант ответа:*

---

---

---

---

---

**В. Дальний свет должен быть переключен на ближний:**

*Вариант ответа:*

---

---

---

---

---

**Оценочные баллы:** максимально – 16 баллов;

фактически набранные баллы за задание - \_\_\_\_\_ .

Подписи членов жюри \_\_\_\_\_

**Задание 3. Услышав сигнал оповещения «ВНИМАНИЕ ВСЕМ!» Вы включили телевизор и услышали рекомендацию покинуть жилище и укрыться на ближайшей станции метрополитена. Каковы будут Ваши действия по обеспечению безопасности жилища?**

*Вариант ответа:*

---

---

---

---

---

**Оценочные баллы:** максимально – 10 баллов;

фактически набранные баллы за задание - \_\_\_\_\_ .

Подписи членов жюри \_\_\_\_\_

**Задание 4.** Наибольшую практическую ценность имеет классификация природных ЧС по характеру лежащих в ее основе базовых явлений и процессов (например, явления в литосфере), типам (например, геофизические опасные явления) и видам (например, землетрясение) с одновременным учетом общего характера последствий. Впишите в правый столбец соответствующих им наименований тип ЧС природного характера.

*Вариант ответа:*

<b>Исходный процесс и явления, определяющие развитие базовых явлений, процессов по виду ЧС природного характера</b>	<b>Наименование тип ЧС природного характера</b>
Землетрясения. Извержение вулканов	
Оползни, сели, обвалы, осыпи, лавины. Склоновый смыв. Просадка лессовых пород. Просадка (провал) земной поверхности в результате карста. Абразия, эрозия	
Лесные пожары. Пожары степных и хлебных массивов. Торфяные пожары. Подземные пожары горючих ископаемых	
Бури (9—11 баллов). Ураганы (12—15 баллов). Смерчи, торнадо. Шквалы. Вертикальные вихри. Крупный град. Сильный дождь, ливень. Сильный снегопад. Сильный гололед. Сильный мороз. Сильная жара. Сильный туман. Засуха. Суховей. Заморозки	
Тропические циклоны (тайфуны). Цунами. Сильное волнение (5 баллов и более). Сильное колебание уровня моря. Сильный тягун в портах. Ранний ледяной покров и припай. Напор льдов, интенсивный дрейф льдов. Непроходимый (труднопроходимый) лед. Обледенение судов и портовых сооружений	
Высокие уровни воды (наводнения). Половодье. Дождевые паводки. Затопы и заборы. Ветровые нагоны. Низкие уровни воды. Ранний ледостав и появление льда на судоходных водоемах и реках	
Низкие уровни грунтовых вод. Высокие уровни грунтовых вод	
Появление микро- и макроорганизмов, обусловленное биоповреждениями объектов техногенного характера	
Единичные случаи экзотических и особо опасных инфекционных заболеваний. Групповые случаи опасных инфекционных заболеваний. Эпидемия. Пандемия	
Единичные случаи экзотических и особо опасных инфекционных заболеваний. Энзоотии	

**Оценочные баллы:** максимально— 10 баллов;

фактически набранные баллы за задание - \_\_\_\_\_ .

Подписи членов жюри \_\_\_\_\_



## **Задание 5. Перечислите основные компоненты здорового образа жизни:**

*Вариант ответа:*

---

---

---

---

---

---

---

---

**Оценочные баллы:** максимально – 6 баллов;

фактически набранные баллы за задание - \_\_\_\_\_ .

Подписи членов жюри \_\_\_\_\_

## **Задание 6. В рекомендации по безопасному использованию интернет-банка допущен ряд ошибок. Исправьте их, записав в бланк ответов номера исправленных предложений и правильные рекомендации.**

1. Используйте сложный пароль блокировки экрана и качественную антивирусную программу.

2. Заходите в банковские приложения, используя отпечаток пальца или функцию распознавания лица.

3. Логин и пароль от входа в мобильный банкинг лучше сохранять в телефоне.

4. В телефоне можно хранить только реквизиты карты: номер, срок действия, проверочный код, а ПИН-код карты нельзя.

5. Избегайте входа в систему мобильного банкинга с чужих устройств.

6. При утере телефона немедленно обратитесь в банк для блокировки карты и в офис мобильного оператора для блокировки SIM-карты.

7. Переходить по ссылкам из SMS-сообщений, можно только если в сообщении сказано, что оно из банка.

8. Подключите функцию отображения текста входящих SMS-уведомлений на экране заблокированного телефона.

*Вариант ответа:*

---

---

---

---

---

---

---

---

---

---

Оценочные баллы: максимально – 20 баллов;  
 фактически набранные баллы за задание - \_\_\_\_\_ .  
 Подписи членов жюри \_\_\_\_\_

<b>Баллы за задания Теоретического блока</b>						
№ задания	1	2	3	4	5	6
Кол-во баллов						

Подписи председателя жюри \_\_\_\_\_  
 Подписи членов жюри \_\_\_\_\_

### ЗАДАНИЯ ТЕОРЕТИЧЕСКОГО ТУРА (Блок тестирования)

№ п/п	Тестовые задания	Макс. балл	Кол-во набранных баллов
1	2	3	4
<b>Определите один правильный ответ</b>			
1.	<b>Пешеходный режим предусматривает ограничение скорости электрического средства индивидуальной мобильности до:</b> а) 3 км/ч; б) 5 км/ч; в) 8 км/ч; г) 12 км/ч	2	
2.	<b>Цвет информационных знаков системы навигации в сфере туризма:</b> а) зелёный; б) синий; в) красный; г) коричневый	2	
3.	<b>При каких углах наклона горных склонов наиболее вероятно образование лавин?</b> а) 0°-20°; б) 20°-25°; в) 25°-60°; г) более 60°	2	

4	<b>Какие признаки характерны для начальной стадии переохлаждения (гипотермии)?</b> а) нарастающая сонливость; б) прекращение мышечной дрожи; в) беспокойство, возбуждение; г) пульс редкий, слабый	2	
5	<b>Каковы Ваши действия, если чувствуете устойчивый запах газа, а причина этого неизвестна?</b> а) покиньте данное место и вызовите аварийную газовую службу; б) вызовите спасательную службу и попытайтесь определить место утечки	2	
6	<b>К каким поражениям может привести электрический ток, действуя на организм человека?</b> а) удар, ожог б) оглушение, ушиб	2	
7	<b>На какие виды подразделяются пожары по месту возникновения?</b> а) луговые и предгорные б) степные и полевые	2	
8	<b>Что можно использовать при аварии в наземном общественном транспорте для экстренного выхода?</b> а) окна и вентиляционные люки б) только двери и только окна	2	
9	<b>Каковы действия по оказанию первой помощи при попадании ядовитых средств бытовой химии на кожу?</b> а) промыть водой и наложить сухую повязку б) наложить повязку с лекарственными средствами	2	
10	<b>К группе водорастворимых относятся витамины:</b> а) А; F; B1 б) B6; C; H	2	
<b>Количество баллов</b>		<b>max 20</b>	

**Оценочные баллы:** максимально – 20 баллов;

фактически набранные баллы за Блок тестирования - \_\_\_\_\_ .

Подпись председателя жюри \_\_\_\_\_

Подписи членов жюри \_\_\_\_\_

Министерство образования и науки Республики Татарстан  
**ВСЕРОССИЙСКАЯ ОЛИМПИАДА ШКОЛЬНИКОВ ПО ОСНОВАМ  
 БЕЗОПАСНОСТИ ЖИЗНЕДЕЯТЕЛЬНОСТИ  
 (МУНИЦИПАЛЬНЫЙ ЭТАП)**

«\_\_\_\_\_» \_\_\_\_\_ 2023 г.  
 Республика Татарстан

**ТЕОРЕТИЧЕСКИЙ ТУР  
 9 класс**

Впишите свой код/шифр		

Оценка за Теоретический блок \_\_\_\_\_ баллов  
 (максимальная 80 баллов)

Оценка за Блок тестирования \_\_\_\_\_ баллов  
 (максимальная 20 баллов)

**Уважаемый участник Олимпиады!**

При выполнении заданий теоретического тура Вам предстоит выполнить определенную работу, которую лучше организовать следующим образом:

- не спеша, внимательно прочитайте задание и входящие в него вопросы или ситуации;
  - определите, наиболее верный и полный ответ;
  - если вы отвечаете на теоретический вопрос, обдумайте и сформулируйте конкретный ответ только на поставленный вопрос;
  - если вы отвечаете на предложенную ситуацию, обдумайте порядок и последовательность действий по предложенной ситуации и впишите ответы в схему в той последовательности, которую вы определили, при этом ответ должен быть кратким, но содержать необходимую информацию;
  - если вы отвечаете на задание, связанное с заполнением таблицы, не старайтесь детализировать информацию, вписывайте только те сведения или данные, которые указаны в вопросе или верхних графах;
  - после выполнения всех предложенных заданий еще раз удостоверьтесь в правильности выбранных вами ответов и решений;
- Задание теоретического тура по данной предметной секции считается выполненным, если Вы вовремя сдаете его членам жюри.  
 Время выполнения задания составляет 180 минут.**

**Желаем вам успеха!**

**ЗАДАНИЯ ТЕОРЕТИЧЕСКОГО ТУРА**

**Задание 1.** С развитием техногенной культуры и в ситуации, которая оценивается как период глобального кризиса цивилизации, все более актуальными становятся вопросы формирования культуры безопасности жизнедеятельности населения. Очевидным становится тот факт, что деятельность по недопущению грядущего общепланетарного кризиса не может ограничиваться только нормативными правовыми, организационно-техническими и образовательными мероприятиями. Выполните задание:

**А.** Укажите, что включает в себя культура безопасности жизнедеятельности.

*Вариант ответа:*

---



---



---



---



---

**Б.** К жизненно важным интересам государства — национальным интересам — относят:

---



---



---



---



---

**Оценочные баллы:** максимально— 18 баллов;

фактически набранные баллы за задание - \_\_\_\_\_.

Подписи членов

жюри \_\_\_\_\_

**Задание 2.** Система обеспечения пожарной безопасности - совокупность сил и средств, а также мер правового, организационного, экономического, социального и научно-технического характера, направленных на профилактику пожаров, их тушение и проведение аварийно-спасательных работ. Выполните задание, указав основные функции системы обеспечения пожарной безопасности:

*Вариант ответа:*

---



---



---



---



---



---



---



---



---



---

**Оценочные баллы:** максимально— 14 баллов;

фактически набранные баллы за задание - \_\_\_\_\_.

Подписи членов







жюри \_\_\_\_\_



**Задание 3. Выполните задание:**

*Вариант ответа:*

**А. Впишите в правых окошках названия изображенных знаков дорожного движения.**

**Б. Заполните таблицу, указав допустимые движения велосипедистов в возрасте старше 14 лет ПДД пункт 24.1:**

*Вариант ответа:*

По правому краю проезжей части - в следующих случаях:	По тротуару или пешеходной дорожке - в следующих случаях:	По правому краю проезжей части при соблюдении одновременно следующих условий:



**Оценочные баллы:** максимально— 28 баллов;  
фактически набранные баллы за задание - \_\_\_\_\_.

Подписи членов  
жюри \_\_\_\_\_

**Задание 4. Заполните таблицу, указав класс (наименование) вредных веществ согласно системе стандартов безопасности труда. Средства индивидуальной защиты органов дыхания ГОСТ 12.4.235-2012 .**

**Оценочные баллы:** максимально – 10 баллов;

фактически набранные баллы за задание - \_\_\_\_\_ .

Подписи

жюри

\_\_\_\_\_ членов

Вариант ответа:

Обозначение класса вещества	Цветовой код фильтра	Класс фильтра	Класс вредных веществ
А		1,2 или 3	
В		1,2 или 3	
Г		1,2 или 3	
КД		1,2 или 3	
Е		1,2 или 3	

© 2023 ГАОУ «Республиканский олимпиадный центр»

Копирование не допускается

**Задание 5. Подпишите под каждым рисунком степень ожога указав, что нельзя делать при ожогах.**

**Оценочные баллы:** максимально – 10 баллов;

фактически набранные баллы за задание - \_\_\_\_\_ .

Подписи

членов

жюри \_\_\_\_\_

Вариант ответа:

\_\_\_\_\_



**Баллы за задания Теоретического блока**

№ задания	1	2	3	4	5
Кол-во баллов					

Подпись председателя

жюри \_\_\_\_\_

Подписи членов жюри \_\_\_\_\_

**При ожогах  
ЗАПРЕЩАЕТСЯ:** \_\_\_\_\_

\_\_\_\_\_

\_\_\_\_\_



## ЗАДАНИЯ ТЕОРЕТИЧЕСКОГО ТУРА (Блок тестирования)

№ п/п	Тестовые задания	Макс. балл	Кол-во набранных баллов
1	2	3	4
<b>Определите один правильный ответ</b>			
1.	<p><b>Дорожные знаки, вводящие или отменяющие определенные режимы движения, относятся к знакам:</b></p> <p>а) запрещающим; б) предупреждающим; в) особых предписаний; г) дополнительной информации</p>	1	
2.	<p><b>Сели относятся к опасным:</b></p> <p>а) метеорологическим явлениям; б) геологическим явлениям; в) гидрологическим явлениям; г) геологическим процессам</p>	1	
3.	<p><b>Вы подошли к перекрёстку, где проводится движение по сигналам регулировщика. Укажите, какой сигнал показывает регулировщик, если он обращён к Вам грудью, а его руки опущены.</b></p> <p>а) внимание пешеходы б) движение запрещено в) навстречу транспорту движение запрещено г) путь пешеходам закрыт</p>	1	


4.	<p><b>Какая защита существует от гамма – излучения?</b></p> <p>а) обычный лист бумаги, одежда б) каменные и деревянные стены, подвал каменного дома в) любое укрытие г) противорадиационное укрытие, глубокий овраг</p>	1	
5.	<p><b>От чего зависит доза излучения естественного радиационного фона, которой подвергается человек?</b></p> <p>а) местность, в которой он живёт вода; которую он пьёт; материалы, из которых построен его дом. б) частое посещение лесного и горного массива. в) нахождение рядом с автострадами, железнодорожными мостами. г) пища, которую он ест; а одежда, которую он носит; транспорт, в котором он ездит.</p>	1	
6.	<p><b>Какие существуют виды ядерного оружия?</b></p> <p>а) ядерное, термоядерное, нейтронное б) химическое, атомное, ядерно-импульсное в) вакуумное, объёмное, бинарное г) биологическое, ядерно-космическое, термобарическое</p>	1	
7.	<p><b>На каком безопасном расстоянии следует находиться при обнаружении бесхозного дорожного чемодана, во время ожидания сотрудников правоохранительных органов?</b></p> <p>а) 280 метров в) 200 метров</p>	1	



	б) 230 метров г) 350 метров				дыхания. г) отсутствие сознания, отсутствие дыхания, отсутствие пульса на сонной артерии, помутнение роговицы глаза.		
8.	<b>Какой из показателей по определению Всемирной организации здравоохранения является главным индикатором состояния здоровья населения?</b> а) процент привитых людей. б) продолжительность жизни населения. в) продолжительность трудовой деятельности. г) частота простудных заболеваний в течение одного года.	1		<b>Определите все правильные ответы</b>			
9.	<b>Какое опасное осложнение может возникнуть у пострадавшего при повреждении вен шеи и головы в первые минуты после травмы, если первая помощь не будет оказана своевременно?</b> а) сепсис (заражение крови) б) инфицирование раны и воспаление в) попадание воздуха в просвет сосуда (воздушная эмболия) г) анафилактический (аллергический) шок	1		11	<b>Какие значения имеет сигнал «сочетание красного и жёлтого цвета» круглого светофора?</b> а) запрещает движение б) информирует о предстоящем включении зелёного сигнала в) информирует о наличии нерегулируемого перекрёстка г) информирует о наличии нерегулируемого пешеходного перехода д) отдаёт приоритет в движении велосипедам	2	
10	<b>Укажите признаки обморока.</b> а) отсутствие сознания, отсутствие дыхания, отсутствие пульса на сонной артерии. б) отсутствие сознания более 3–4 минут, наличие пульса на сонной артерии, наличие дыхания. в) отсутствие сознания до 3–4 минут, наличие пульса на сонной артерии, наличие	1		12	<b>Укажите место, которое Вы займёте в пустом салоне общественного транспорта в обстоятельствах позднего передвижения.</b> а) поближе к водителю (машинисту) б) ближе к двери в) рядом с кнопкой экстренной остановки г) рядом с устройством громкой связи с машинистом	2	
				13	<b>Что означает сигнал регулировщика «руки вытянуты в стороны или опущены» для пешеходов и транспортных средств, находящихся со стороны груди и спины регулировщика?</b> а) движение всех транспортных средств	2	

	запрещено б) движение пешеходов запрещено в) пешеходам разрешено переходить проезжую часть г) транспортным средствам разрешено движение прямо и направо		
14	<b>Какие существуют виды ионизирующих излучений?</b> а) ионизирующее, дельта б) бета, нейтронное в) рентгеновское, лучевое г) электромагнитное, тепловое д) гамма, альфа	2	
15	<b>Из каких уровней состоит единая государственная система предупреждения и ликвидации чрезвычайных ситуаций (РСЧС)?</b> а) федеральный, региональный б) субъектовый, органы повседневного управления в) связи, оповещения, информационного обеспечения г) территориальный, местный, объектовый д) межведомственный, ведомственный, спасательный	2	
<b>Количество баллов</b>		<b>max 20</b>	

**Оценочные баллы:** максимально – 20 баллов;  
фактически набранные баллы за Блок тестирования - \_\_\_\_ .  
Подпись председателя  
жюри \_\_\_\_\_  
Подписи членов жюри  
\_\_\_\_\_



**ВСЕРОССИЙСКАЯ ОЛИМПИАДА ШКОЛЬНИКОВ  
ПО ОСНОВАМ БЕЗОПАСНОСТИ ЖИЗНЕДЕЯТЕЛЬНОСТИ  
(МУНИЦИПАЛЬНЫЙ ЭТАП)**

---

---

« \_\_\_\_\_ » \_\_\_\_\_ 2023 г.

**ТЕОРЕТИЧЕСКИЙ ТУР  
10-11 классов**

Впишите свой код/шифр		

***Уважаемый участник Олимпиады!***

*При выполнении заданий теоретического тура Вам предстоит выполнить определенную работу, которую лучше организовать следующим образом:*

*– не спеша, внимательно прочитайте задание и входящие в него вопросы или ситуации;*

*– определите, наиболее верный и полный ответ;*

*– если вы отвечаете на теоретический вопрос, обдумайте и сформулируйте конкретный ответ только на поставленный вопрос;*

*– если вы отвечаете на предложенную ситуацию, обдумайте порядок и последовательность действий по предложенной ситуации и впишите ответы в схему в той последовательности, которую вы определили, при этом ответ должен быть кратким, но содержать необходимую информацию;*

*– если вы отвечаете на задание, связанное с заполнением таблицы, не старайтесь детализировать информацию, вписывайте только те сведения или данные, которые указаны в вопросе или верхних графах;*

*– после выполнения всех предложенных заданий еще раз удостоверьтесь в правильности выбранных вами ответов и решений;*

***Задание теоретического тура по данной предметной секции считается выполненным, если Вы вовремя сдаете его членам жюри. Время выполнения задания составляет 180 минут.***

***Желаем вам успеха!***

Оценка за Теоретический блок \_\_\_\_\_ баллов (максимальная 80 баллов)

Оценка за Блок тестирования \_\_\_\_\_ баллов (максимальная 20 баллов)

**Оценка результата участника за ТЕОРЕТИЧЕСКИЙ ТУР \_\_\_\_\_ баллов**

***(максимально за теоретический тур 100 баллов)***





**А. На дорогах с полосой для маршрутных транспортных средств, обозначенных знаками 5.11.1, 5.13.1, 5.13.2, 5.14.1, запрещаются движение и остановка других транспортных средств за исключением:**

*Вариант ответа:*

---

---

---

---

---

**Б. В темное время суток и в условиях недостаточной видимости независимо от освещения дороги, а также в тоннелях на движущемся транспортном средстве должны быть включены следующие световые приборы:**

*Вариант ответа:*

---

---

---

---

---

**В. Дальний свет должен быть переключен на ближний:**

*Вариант ответа:*

---

---

---

---

---

**Оценочные баллы:** максимально – 16 баллов;

фактически набранные баллы за задание - \_\_\_\_\_ .

Подписи членов жюри \_\_\_\_\_

**Задание 4. Воинское формирование — обобщённое наименование подразделений, воинских частей, соединений, объединений и других структурных единиц вооружённых сил, а также других войск, которые имеют специфические особенности предназначения, формирования и комплектования. Выполните задание, заполнив таблицу указав уровни формирования и формирование по предназначению:**

*Вариант ответа:*

<b>Уровни формирования по масштабу:</b>	<b>Виды формирования по предназначению:</b>
	•





**Оценочные баллы:** максимально – 5 баллов;  
 фактически набранные баллы за задание - \_\_\_\_\_ .  
 Подписи членов жюри \_\_\_\_\_

<b>Баллы за задания Теоретического блока</b>					
<i>№ задания</i>	1	2	3	4	5
<i>Кол-во баллов</i>					

Подписи председателя жюри \_\_\_\_\_  
 Подписи членов жюри \_\_\_\_\_

### ЗАДАНИЯ ТЕОРЕТИЧЕСКОГО ТУРА (Блок тестирования)

<b>№ п/п</b>	<b>Тестовые задания</b>	<b>Макс. балл</b>	<b>Кол-во набранных баллов</b>
1	2	3	4
<b>Определите один правильный ответ</b>			
1	<b>Дорожные знаки, вводящие или отменяющие определенные режимы движения, относятся к знакам:</b> а) запрещающим; б) предупреждающим; в) особых предписаний; г) дополнительной информации	1	
2	<b>Одним из способов ориентирования на местности является ориентирование по местным признакам и предметам. Куда обращен приподнятый край нижней перекладины креста на куполе церкви?</b> а) на восток; б) на запад; в) на север; г) на юг	1	
3	<b>Постоянно действующими органами управления РСЧС на региональном уровне являются:</b> а) структурные подразделения организаций; б) региональные центры по делам гражданской обороны, чрезвычайных ситуаций и ликвидации последствий стихийных бедствий; в) главные управления МЧС России по субъектам РФ; г) МЧС России.	1	
4	<b>Температурой воспламенения называют:</b> а) максимальную температура вещества, при которой происходит загорание б) разность максимальной и минимальной температуры вещества, при которой происходит загорание в) минимальную температуру вещества, при которой	1	

	происходит загорание г) среднюю температуру вещества, при которой происходит загорании		
5	<b>Антропогенные изменения в природе – это:</b> а) изменения, происходящие в природе в результате хозяйственной деятельности человека; б) изменения, происходящие в природе в результате стихийных бедствий; в) изменения, происходящие в природе в результате воздействия солнечной энергии.	1	
6	<b>Как называется комплекс мероприятий по переводу на военное положение Вооруженных Сил, экономики государства и органов государственной власти страны?</b> а) военное положение; б) мобилизация; в) демобилизация; г) военное время.	1	
7	<b>По характеру воздействия на человека аварийно-химически опасные вещества делятся на:</b> а) 3 группы; б) 6 групп; в) 5 групп; г) 4 группы	1	
8	<b>Основой профилактики неблагоприятного влияния шума на организм является:</b> а) гигиеническое нормирование; б) эквивалентность уровня звука; в) прерывистость шума.	1	
9	<b>Воинский коллектив – это:</b> а) воинское подразделение одного рода войск, обеспечивающее выполнение поставленного перед ним боевого задания; б) определённое количество военнослужащих, которые размещены в одном месте и выполняют определённую учебно-боевую задачу; в) подразделение военнослужащих, имеющих общие цели и задачи в мирное или военное время; г) группа военнослужащих, объединённых совместным воинским трудом и общими интересами в военном деле.	1	
10	<b>Первое упоминание об огнестрельном оружии в России относится:</b> а) к XIII веку (при Александре Невском); б) к XIV веку (при обороне Москвы); в) к XVI веку (при штурме Казани); г) к XVII веку (при Петре I).	1	
11	<b>Вместе с восходом солнца трое друзей зашли в лес. Заметив, что солнце находится слева, они шли прямо до того места, где надеялись набрать грибов, и не ошиблись. В 14.00 друзья решили уточнить направление возвращения домой. Первый предлагал двигаться так, чтобы солнце находилось справа, второй – чтобы солнце находилось слева, третий – чтобы солнце светило в спину. Кто из друзей указал правильное направление движения:</b> а) первый; б) второй; в) третий;	1	

	г) никто не указал правильного направления		
12	<b>Самым многочисленным видом Вооружённых Сил Российской Федерации является:</b> а) ракетные войска стратегического назначения; б) морская пехота; в) воздушно-космические силы; г) сухопутные войска.	1	
	<b>Определите все правильные ответы</b>		
13	<b>Какие виды подготовки предусмотрены для юношей старшекласников на учебных сборах?</b> а) огневая подготовка; б) боевая подготовка; в) строевая подготовка; г) тактическая подготовка; д) специальная подготовка	3	
14	<b>Основными мероприятиями, проводимыми органами управления и силами РСЧС в режиме повышенной готовности являются:</b> а) усиление контроля за состоянием окружающей среды, прогнозирование возникновения ЧС и их последствий; б) подготовка населения к действиям в ЧС; в) уточнение планов действий (взаимодействий) по предупреждению и ликвидации ЧС; г) непрерывный контроль за состоянием окружающей среды, прогнозирование развития возникших ЧС и их последствий.	2	
15	<b>К радиационно-опасным объектам относятся:</b> а) взрывоопасные производства на промышленных предприятиях; б) предприятия по переработке радиоактивных веществ; в) производства, связанные с применением, хранением и переработкой легковоспламеняющихся и горючих жидкостей; г) атомные электростанции; д) предприятия цветной и черной металлургии; е) атомные подводные лодки.	3	
<b>Количество баллов</b>		<b>max 20</b>	

**Оценочные баллы:** максимально – 20 баллов;

фактически набранные баллы за Блок тестирования - \_\_\_\_\_ .

Подпись председателя жюри \_\_\_\_\_

Подписи членов жюри \_\_\_\_\_